

ACROBAZIE IN VOLO

Colora le **linee** seguendo le indicazioni:



LINEA
RETTA



LINEA
CURVA



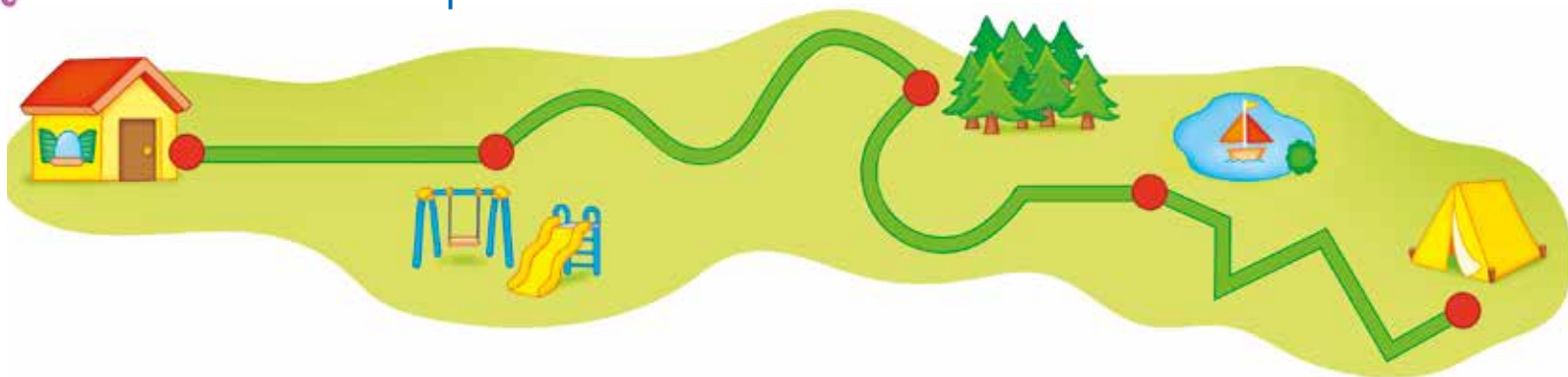
LINEA
MISTA



LINEA
SPEZZATA



Osserva i sentieri e completa.



- Il sentiero dalla casa al parco giochi è una linea
- Il sentiero dal parco giochi alla pineta è una linea
- Il sentiero dalla pineta al laghetto è una linea
- Il sentiero dal laghetto al campeggio è una linea

Ripassa di blu le **linee aperte** e di rosso le **linee chiuse**.



FIGURE A GONFIE VELE!

Scrivi il nome della **figura geometrica** di ogni bandiera: scegli tra queste sotto, poi colora secondo le indicazioni.



quadrato
 triangolo
 cerchio
 esagono
 rettangolo



HOW MANY?

Somma e collega.

$4 + 2 = \underline{6}$

four

$2 + 2 = \underline{\quad}$

six

$3 + 2 = \underline{\quad}$

eleven

$6 + 5 = \underline{\quad}$

three

$1 + 8 = \underline{\quad}$

five

$2 + 1 = \underline{\quad}$

seven

$5 + 2 = \underline{\quad}$

nine

$6 + 6 = \underline{\quad}$

one

$2 + 6 = \underline{\quad}$

twelve

$7 + 3 = \underline{\quad}$

ten

$1 + 0 = \underline{\quad}$

eight

$1 + 1 = \underline{\quad}$

two

L'ISOLA MISTERIOSA

Colora secondo le indicazioni.



confine dell'isola
 regione interna dell'isola
 regione esterna all'isola
 oggetti nella regione interna
 oggetti nella regione esterna



Colora di rosso i **poligoni**, poi trascrivi le lettere abbinate e scoprirai dove è nascosto il tesoro.


C R F L T I
G O O T A

• Il tesoro è nascosto vicino alla

Disegna una pietra preziosa a forma di:

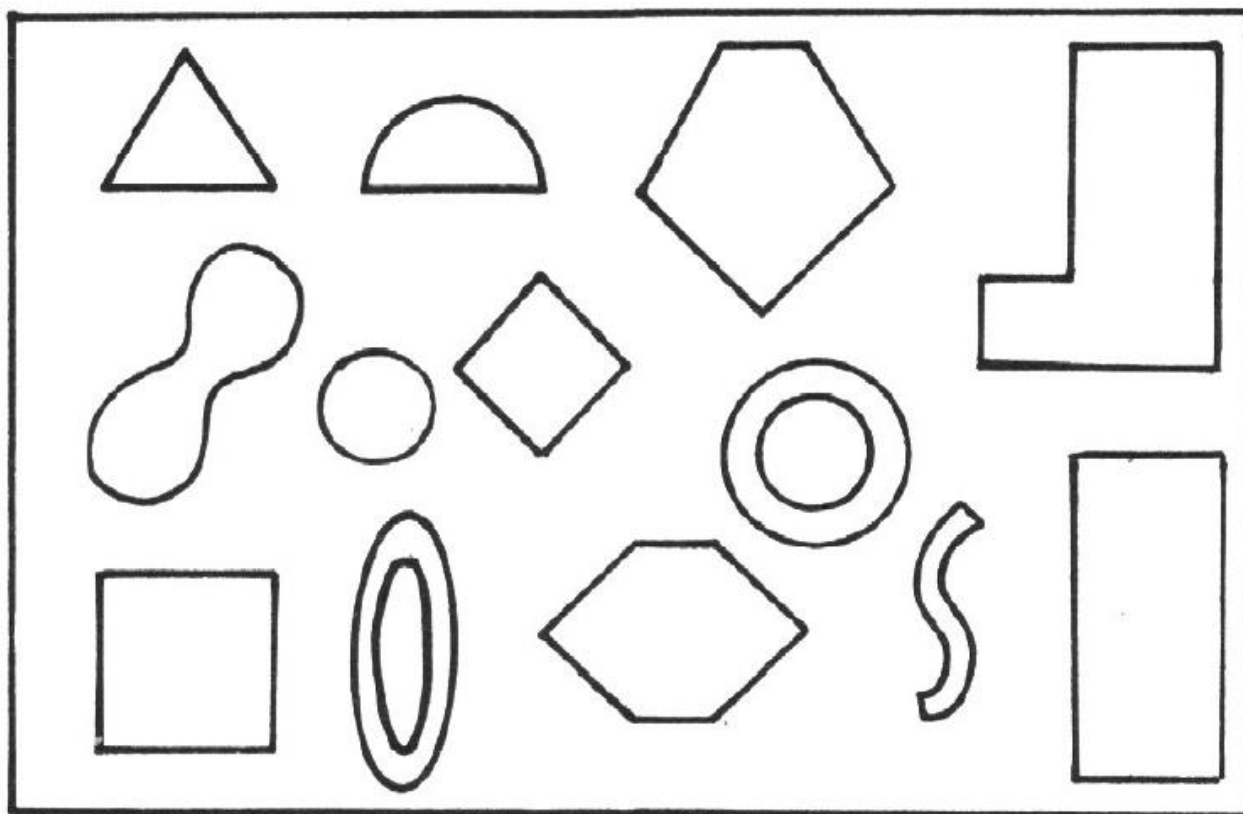
poligono	non poligono

Osserva le figure e completa la tabella:



Tipo di CONTORNO ↓ FIGURE →	LINEE RETTE	LINEE CURVE	LINEE MISTE
A			
B			
C			
D			
E			
F			
G			
H			
I			

Colora in rosso i poligoni e in blu i non poligoni

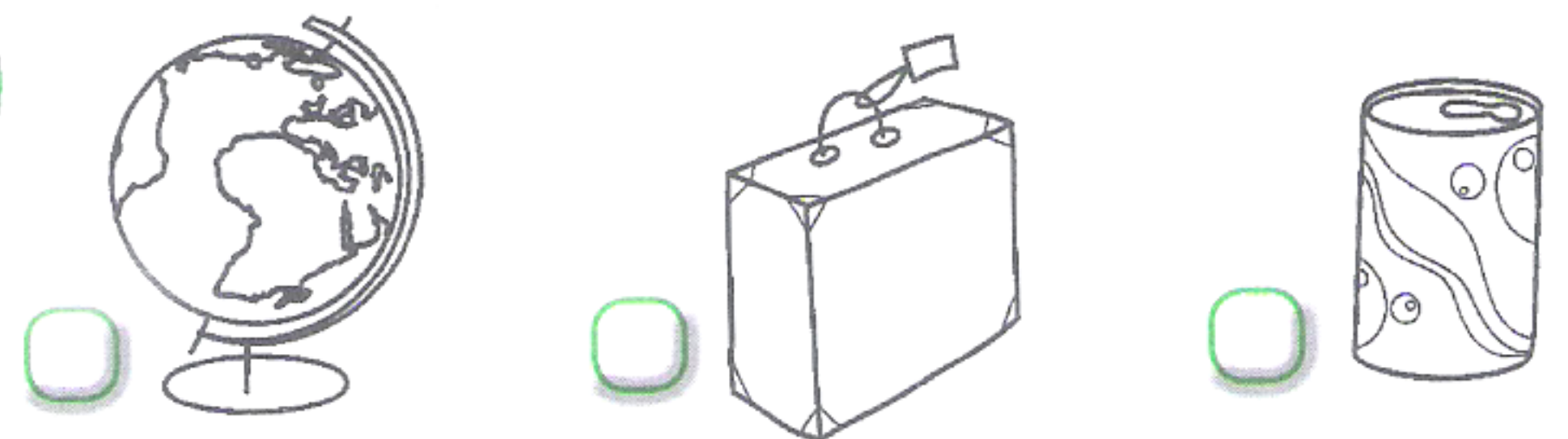


1 Segna con una X e colora l'oggetto indicato dai bambini, poi completa.

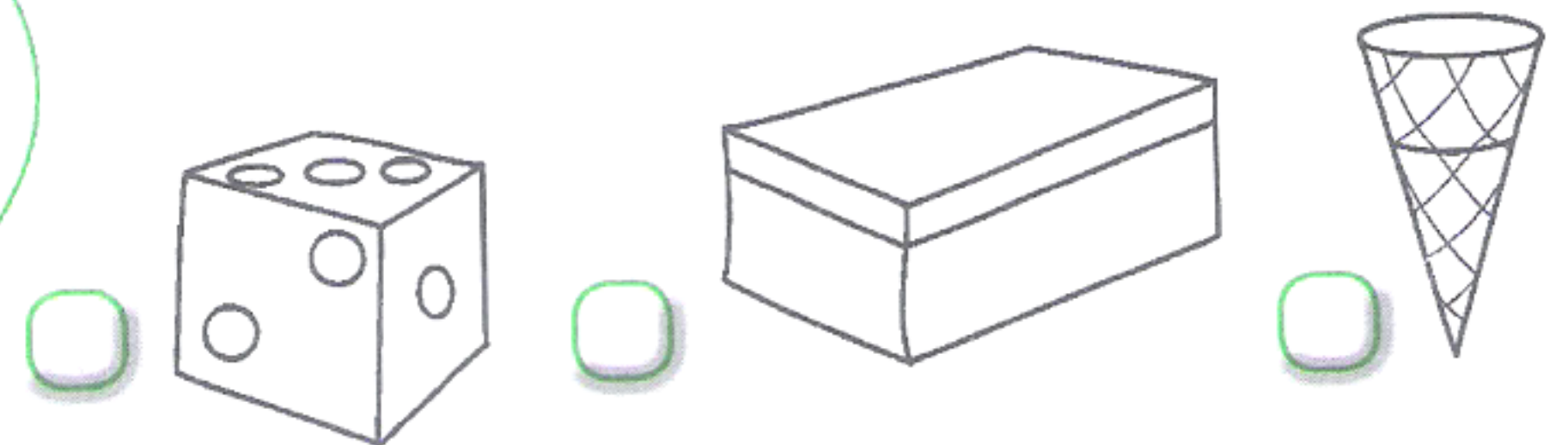
Il mio oggetto ha la forma di un **cubo**.



Il mio oggetto ha la forma di un **cilindro**.



Il mio oggetto ha la forma di un **parallelepipedo**.



Il mio oggetto ha la forma di un **cono**.



I solidi sono formati da figure piane. Quali figure piane riconosci?

- Nel cubo riconosco
- Nel cilindro riconosco
- Nel parallelepipedo riconosco
- Nel cono riconosco